


الدرجة: الأولى السنة: الأولى	تقييم مكتسبات التلاميذ في الرياضيات الملف 1-1 (الفضاء)	المدرسة الابتدائية الإصلاح
العدد المسند:	الرقم:	الاسم و اللقب:

اِحْتَفَلَتْ كَرِيمَةٌ بِعِيدِ مِيلَادِهَا فَجَاءَهَا أَصْدِقَاؤُهَا وَحَمَلُوا مَعَهُمُ الْهَدَايَا.

التعلیمة 1-1 حد



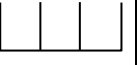
قَدِمَ الْأَرْنَبُ وَ السُّلْحَفَاءُ وَ الْقِطَّةُ.

* قَفَزَ الْأَرْنَبُ فَوْقَ الطَّائِلَةِ.

* وَقَفَتِ السُّلْحَفَاءُ تَحْتَ الطَّائِلَةِ.

* أَمَّا الْقِطَّةُ فَوَقَفَتْ عَلَى يَسَارِ كَرِيمَةَ.

أَرْسَمَ كُلُّ حَيَوَانٍ فِي الْمَكَانِ الْمُنَاسِبِ لَهُ.



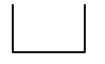

مع 1

التعلیمة 2-2 حد


وَضَعَ الْأَرْنَبُ هَدِيَّتَهُ فَوْقَ الطَّائِلَةِ. أَمَّا السُّلْحَفَاءُ فَوَضَعَتْهَا تَحْتَ الطَّائِلَةِ.

* أَلْوَنُ بِالْأَحْمَرِ هَدِيَّةَ الْأَرْنَبِ.

* أَضَعْ هَدِيَّةَ السُّلْحَفَاءِ دَاخِلَ خَطِّ مُغْلَقٍ.



مع 4 أ




مع 4 ب

التعلیمة 3-3 حد

دَخَلَتْ الْأُمُّ وَقَدْ حَمَلَتْ مَعَهَا كَعْكَةً شَهِيَّةً وَوَضَعَتْهَا فَوْقَ الطَّائِلَةِ بِجَانِبِ الْهَدَايَا.

* أَبْحَثْ عَنِ الْكَعْكَةِ وَالْوَنُهَا.

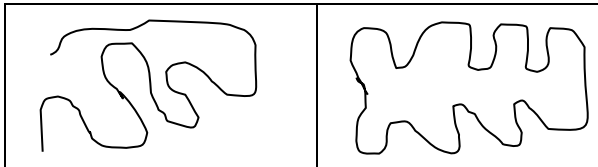


مع 4 أ

التعلیمة 4-4 حد

بَعْدَ الْإِنْتِهَاءِ مِنْ عِيدِ الْمِيلَادِ خَرَجَتْ كَرِيمَةُ مَعَ أَصْدِقَائِهَا إِلَى الْحَدِيقَةِ لِلْعِبِّ. فَرَسَمُوا خَطًّا مُغْلَقًا.

* أَضَعْ عَلَامَةَ (X) تَحْتَ الْخَطِّ الْمُغْلَقِ.



مع 4 ب

أَعْمَضَتْ كَرِيمَةً عَيْنَيْهَا وَبَقِيَتْ دَاخِلَ الْخَطِّ الْمُعْلَقِ أَمَّا أَصْدِقَاؤُهَا فَقَدْ اخْتَبَوْا.

- اخْتَبَأَ الْأَرْزَبُ تَحْتَ الزَّهْرَةِ.
 - اخْتَبَأَتْ السُّلْحَفَاءُ بِجَانِبِ الْمَنْزِلِ.
 - أَمَّا الْقَطُّ فَقَدْ اخْتَبَأَ فَوْقَ الشَّجَرَةِ.
- * أَضَعُ عَلَامَةً (×) لِأَحَدِ مَكَانِ الْأَرْزَبِ.



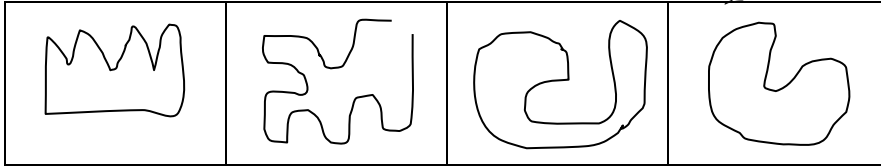
مع4ب

التعليمة 5 دد

بَعْدَ الْإِنْتِهَاءِ مِنَ اللَّعْبِ قَطَفَ الْأَطْفَالُ مَجْمُوعَةً مِنَ الزُّهُورِ ثُمَّ جَلَسُوا عَلَى الْعُشْبِ وَكَوَّنُوا بِهَا خَطًّا مَفْتُوحًا!.

* أَبْحَثْ عَنِ الْخَطِّ الْمَفْتُوحِ وَالْوَنِّهِ بِالْأَحْمَرِ.

مع4ب



التعليمة 6 دد

أَضَعُ نَفْسِي مَكَانَ الْأَصْدِقَاءِ ثُمَّ أَرْسُمُ خَطًّا مَفْتُوحًا عَلَى يَسَارِي وَخَطًّا مُعْلَقًا عَلَى يَمِينِي.

مع4ب

--	--

جدول إسناد الأعداد

التميز	معايير الحد الأدنى			
	مع4ب	مع4أ	مع1	
5	0	0	0	انعدام التملك (---)
2.5	1.5	2	1.5	دون التملك الأدنى (+--)
2.5	3	4	3	التملك الأدنى (++-)
5	4.5	6	4.5	التملك الأقصى (++++)